





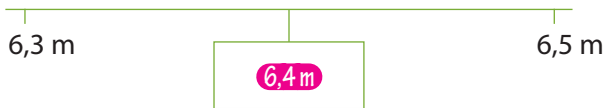


naam:

antwoorden

1 Welk getal ligt er precies tussenin?

€ 6,80	€ 6,85	€ 6,90
€ 19,94	€ 19,97	€ 20,00
€ 18,54	€ 18,56	€ 18,58
€ 36,20	€ 36,25	€ 36,30
€ 82,00	€ 82,25	€ 82,50



2 Reken uit.


8 2	9 6	1 4 7	1 6 5	3 1 6
8 ×	7 ×	4 ×	6 ×	3 ×
1 6	4 2	2 8	3 0	1 8
6 4 0	6 3 0	1 6 0	3 6 0	3 0
6 5 6	6 7 2	4 0 0	6 0 0	9 0 0
		5 8 8	9 9 0	9 4 8

3 Schrijf de getallen op de kaartjes.

a Kies uit: 865 400, 492 800, 820 600, 980 400, 685 300.



b Kies uit: 639 755, 588 090, 975 870, 820 125, 525 700.





naam:

antwoorden

4 Vul de tijden in.

$\begin{matrix} \curvearrowright \\ + \end{matrix}$	0.10,00
0.56,25	1.06,25
1.24,15	1.34,15
4.45,08	4.55,08
6.21,54	6.31,54
15.59,20	16.09,20



$\begin{matrix} \curvearrowright \\ + \end{matrix}$	1.00,00
0.38,15	1.38,15
5.26,23	6.26,23
6.49,72	7.49,72
13.03,94	14.03,94
21.36,46	22.36,46

5 Lees de afstanden en vul in.

a


	km	hm	dam	m
	58	6	5	0
	386	9	0	0

b Over hoeveel meter verspringt de dagteller naar 60 km? 1350

c Over hoeveel meter verspringt de afstandteller naar 390 km? 3100

d Wat is het verschil in afstand tussen de dagteller en de afstandteller?

km	hm	dam	m
328	2	5	0





naam:

antwoorden

6 Reken uit.

€ 7 5,5 8	€ 5 5,6 4	€ 8 1,9 5	€ 3 8,7 0	€ 2 5,7 5
€ 2 6,6 9 -	€ 3 8,5 8 -	€ 4 6,3 9 -	€ 2 9,1 6 -	€ 1 6,4 8 -
€ 4 4,8 9	€ 1 7,0 6	€ 3 5,5 6	€ 9,5 4	€ 9,2 7

7 Schrijf de getallen van klein naar groot.

388 545	672 729	352 917	890 005
352 917	388 545	672 729	890 005
576 293	179 993	805 669	789 550
179 993	576 293	789 550	805 669
428 492	377 128	350 199	250 008
250 008	350 199	377 128	428 492
873 229	837 256	738 998	783 553
738 998	783 553	837 256	873 229
386 840	840 386	386 480	480 840
386 480	386 840	480 840	840 386

8 Reken uit.

$$\frac{1}{6} \text{ liter} + \frac{5}{6} \text{ liter} = \frac{6}{6} \text{ liter of } 1$$

$$\frac{1}{4} \text{ liter} + \frac{1}{4} \text{ liter} = \frac{2}{4} \text{ liter of } \frac{1}{2}$$

$$\frac{1}{8} \text{ liter} + \frac{5}{8} \text{ liter} = \frac{6}{8} \text{ liter of } \frac{3}{4}$$

$$\frac{2}{5} \text{ liter} + \frac{2}{5} \text{ liter} = \frac{4}{5} \text{ liter}$$

$$\frac{2}{9} \text{ liter} + \frac{4}{9} \text{ liter} = \frac{6}{9} \text{ liter of } \frac{2}{3}$$

$$1 \text{ liter} - \frac{1}{3} \text{ liter} = \frac{2}{3} \text{ liter}$$

$$1 \text{ liter} - \frac{3}{5} \text{ liter} = \frac{2}{5} \text{ liter}$$

$$1 \text{ liter} - \frac{2}{9} \text{ liter} = \frac{7}{9} \text{ liter}$$

$$1 \text{ liter} - \frac{1}{4} \text{ liter} = \frac{3}{4} \text{ liter}$$

$$1 \text{ liter} - \frac{5}{8} \text{ liter} = \frac{3}{8} \text{ liter}$$

